

**ШКОЛЬНЫЙ ЭТАП
ВСЕРОССИЙСКОЙ ОЛИМПИАДЫ ШКОЛЬНИКОВ
ПО ИСТОРИИ 2020-2021 г.**

**ЗАДАНИЯ
8 КЛАСС**

1	2	3	4	5	6	7	8	9	Итого
6	6	10	10	24	4	16	2	4	82

Задание 1.

Выберите правильный ответ. За каждый правильный ответ – 2 балла. Максимальный балл – 8

А) Как называется документ, отрывок из которого представлен ниже?

«В случае, если какая-либо форма правительства становится губительной для самих этих целей, народ имеет право изменить или упразднить её и учредить новое правительство, основанное на таких принципах и формах организации власти, которые, как ему представляется, наилучшим образом обеспечат людям безопасность и счастье».

- 1) Соборное уложение 2) Великая хартия вольностей
3) Декларация независимости 4) Судебник Ивана IV

Б) В каком году был принят документ, отрывок из которого приводится ниже?

«Лето 7006, месяца семптеврия, уложил князь великий Иван Васильевич всея Руси, с детьми и с бояры, о суде, как судити боярам и окольным...»

57. О христианском отказе. А христианом отказываться из волости, ис села в село, один срок в году за неделю до Юрьева дни осеннего и неделю после Юрьева дни осеннего...»

- 1) 1497 г. 2) 1525 г. 3) 1550 г. 4) 1581 г. Судебник 1550 г - крещенье слав. наб.

В) Какую систему земледелия применяли восточные славяне в VI-VIII веках в лесистой полосе?

- 1) двуполье 2) подсеčno-огневую 3) переложную

Г) Одной из политических целей Великого посольства (1697-1698 гг.) было заключение союза России с европейскими государствами для ведения войны с

- 1) Турцией 2) Швецией 3) Речью Посполитой

А	Б	В	Г
3	4 3	2	1

Задание 2.

По какому принципу образованы ряды? Напишите максимально точный ответ. За каждый правильный ответ – 3 балла. Максимальный балл – 9.

А) А.С. Шейн, А.Д. Меншиков, А.У. Брауншвейгский, А.В. Суворов.

Российские генералиссимусы

Б) Сражение у мыса Гангут, взятие Ниеншанца, сражение при Лесной, Гренгамское сражение

События Северной войны 1700-1721 года

В) Г.З. Байер, Г.Ф. Миллер, А.Л. Шлецер, Н.М. Карамзин.

Ученые, писавшие историю России.

Задание 3.

Дайте краткое обоснование ряда (что объединяет перечисленные элементы с исторической точки зрения) и укажите, какой из элементов является лишним по данному основанию. За каждый правильный ответ – 2 балла, за объяснение – 3 балла. Максимальный балл – 10.

А) Прокопий Ляпунов, Дмитрий Трубецкой, Иван Заруцкий, Михаил Шейн.

Предводители первого народного ополчения; лишним – М. Шейн

Б) Ништадтский мир (1721), Белградский мир (1739), Кючук-Кайнарджийский мир (1774), Ясский мир (1791)

Мирные договоры с Турцией; лишним – Ништадтский мир

Задание 4.

Определите пропущенные в тексте названия, слова, имена, даты, обозначенные порядковыми номерами. При необходимости при порядковых номерах даются пояснения о характере требу-

емой вставки. Необходимые вставки впишите под соответствующими номерами в помещённую ниже таблицу. По 1 баллу за каждую верную вставку. Всего 10 баллов.

Реформы (1 – неофициальный орган управления) коснулись прежде всего управления и суда. В (2 – год) году был создан первый (3 – название органа) – собрание сословных представителей от бояр, дворян, духовенства, купцов, посадских людей (на некоторых – и от (4 – название категории крестьян)). Выполняя его решения, правительство в следующем году приняло (5 – название документа). По нему была ограничена власть (6 – название должности) и (7 – название должности): их деятельность контролировалась центральной властью и представителями местного населения – «лучшими людьми» (выборными из посадских и (4)). Складывалась система органов центральной исполнительной власти – (8 – название органов), которые поначалу назывались «избами». В них служили бояре, окольные, дьяки, подьячие – складывался профессиональный аппарат центральной власти. Функции и предметы ведения между (8) были разграничены: так, например, (9 – название органа) ведал дворянским войском, (10 – название органа) осуществлял суд над грабителями, ворами, убийцами.

- Избранный рюрик
- 1549 году
- земельный собор
- черноземных
- Судебник 1550 г.
- поместничества
- волюстемей
- приказы
- Разрядный
- Разбойный

10

Задание 5.

Перед Вами перечень ныне существующих зданий, созданных тремя различными архитекторами XVIII века. Запишите в верхнюю строку таблицы в бланке работы фамилии архитекторов, а в нижнюю – порядковые номера сооружений, созданных соответствующими архитекторами. По 2 балла за каждого названного архитектора. По 2 балла за каждое верное соотношение. Всего 24 балла.

- Зимний дворец в Санкт-Петербурге
- собор Петропавловской крепости
- Екатерининский дворец в Царском Селе
- здание Сената в Московском Кремле
- Петровский путевой дворец в Москве
- собор Смоленского монастыря
- здание Благородного собрания в Москве
- Летний дворец Петра I
- здание Двенадцати коллегий

24

Архитектор	Франческо Растрелли	М. Казаков	Дашевский
Сооружение	1, 3, 6	4, 5, 8	2, 7, 9

Задание 6.

Расположите в хронологической последовательности события. 4 балла – полностью верная последовательность. 3 балла – последовательность с одной ошибкой (т. е. верная последовательность восстанавливается путём перестановки любых двух символов). 0 баллов – допущено более 1 ошибки.

- поход новгород-северского князя Игоря на половцев 1185
- битва на реке Калке 1223
- любечский съезд князей 1097
- первое летописное упоминание о Москве 1147
- перенос митрополичьей кафедры в Москву 1526






4

8002

В	Г	А	Б	Д
---	---	---	---	---

Задание 7.

Соотнесите имена исторических деятелей, указанные в списке, с соответствующими фрагментами текста и связанными с ними изображениями. Заполните таблицу: во вторую колонку таблицы запишите имя деятеля, в третью колонку таблицы запишите номер соответствующего фрагмента текста. По 4 балла за каждое верное соотношение. Всего за задание 20 баллов.

А	Б
	
В	Г
	
Д	
	

Имена деятелей:

Владимир Мономах, Пётр I, Екатерина II, Иван Калита, Дмитрий Донской, Иван IV Грозный, Василий Шуйский, Анна Иоанновна

(Обратите внимание, что в списке представлено большее, чем требуется, количество имён.)

Ответ:

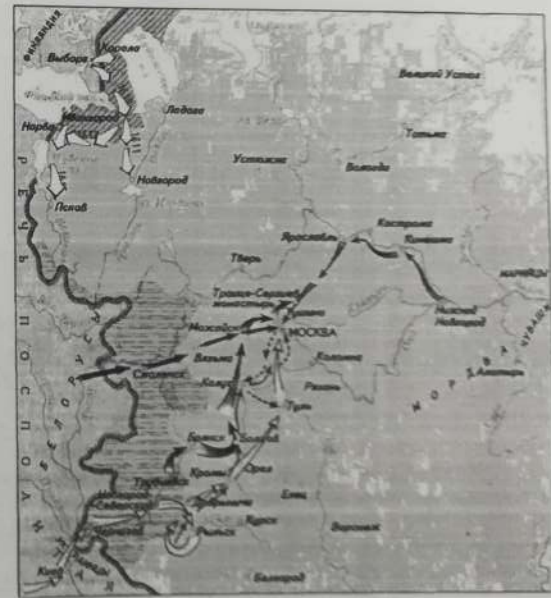
Буквенное обозначение изобра-	Имя деятеля
-------------------------------	-------------

Имена		
А	Василий Шуйский	—
Б	Иван Калита	16 в. дер. в. его в.
В	Иван IV Грозный	
Г	Владимир Мономах	
Д	Екатерина II	

Задание 8.

Рассмотрите карту и выполните задания. Максимальный балл за задание — 11.

1. В результате похода, обозначенного в легенде карты цифрой 3, его предводитель стал русским царём. (1 балл)
2. Территории, обозначенные на карте штриховкой «А», отошли к противнику по Андрусовским (назовите договор). (3 балла)
3. Поход, обозначенный в легенде карты цифрой 4, номинально возглавлял человек по прозвищу Тушинский вор. (2 балла) Михаил Шуйский
4. Поход, предводителями которого являлись князь и «выборный всюю землею человек», обозначен в легенде карты цифрой 6. (2 балла) Второе ополчение
5. Территории, обозначенные на карте штриховкой «Б», были возвращены Ништадтским (назовите договор). (3 балла)



- 1 →
- 2 - - - - -
- 3 → ○
- 4 → □
- 5 → ◇
- 6 → △
- A [hatched box]
- B [solid grey box]

8002

Задание 9

Расположите в хронологической последовательности перечисленные события. 4 балла за полностью верную последовательность. 2 балла за последовательность с одной ошибкой (т. е. верная последовательность восстанавливается путём перестановки любых двух символов). 0 баллов, если допущено более одной ошибки. Всего за задание 4 балла.

- А) начало правления последнего царя из династии Рюриковичей 1584г
- Б) начало двоецарствия Петра I и Ивана V 1682г
- В) начало правления династии Стюартов в Англии
- Г) начало Великой Французской революции
- Д) созыв Второго Народного ополчения 1612г
- Е) начало Реформации в Германии 1510-е года

4
Ответ:

Е	А	Д	В	Б	Г
---	---	---	---	---	---

Максимальный балл - 100