

8005

ШКОЛЬНЫЙ ЭТАП  
ВСЕРОССИЙСКОЙ ОЛИМПИАДЫ ШКОЛЬНИКОВ  
ПО ИСТОРИИ 2020-2021 г.

8005

ЗАДАНИЯ  
8 КЛАСС

1	2	3	4	5	6	7	8	9	Итого
6	6	5	9	24	4	12	6	4	76

Задание 1.

Выберите правильный ответ. За каждый правильный ответ – 2 балла. Максимальный балл – 8

А) Как называется документ, отрывок из которого представлен ниже?

«В случае, если какая-либо форма правительства становится губительной для самих этих целей, народ имеет право изменить или упразднить её и учредить новое правительство, основанное на таких принципах и формах организации власти, которые, как ему представляется, наилучшим образом обеспечат людям безопасность и счастье».

- 1) Соборное уложение
- 2) Великая хартия вольностей
- 3) Декларация независимости
- 4) Судебник Ивана IV

Б) В каком году был принят документ, отрывок из которого приводится ниже?

«Лето 7006, месяца семиптеврия, уложил князь великий Иван Васильевич всяя Руси, с детми и с бояры, о суде, как судити боярам и околничим...»

57. О христанском отказе. А христаном отказываться из волости, ис села в село, один срок в году за неделю до Юрьева дни осеннего и неделю после Юрьева дни осеннего...»

- 1) 1497 г.
- 2) 1525 г.
- 3) 1550 г.
- 4) 1581 г.

В) Какую систему земледелия применяли восточные славяне в VI-VIII веках в лесистой полосе?

- 1) двуполье
- 2) подсеčno-огневую
- 3) переложную

Г) Одной из политических целей Великого посольства (1697-1698 гг.) было заключение союза России с европейскими государствами для ведения войны с

- 1) Турцией
- 2) Швецией
- 3) Речью Посполитой

А	Б	В	Г
3	1	2	2

Задание 2.

По какому принципу образованы ряды? Напишите максимально точный ответ. За каждый правильный ответ – 3 балла. Максимальный балл – 9.

А) А.С. Шенин, А.Д. Меншиков, А.У. Брауншвейгский, А.В. Суворов.

3 Все они были деятелями культуры Российской Империи

Б) Сражение у мыса Гангут, взятие Ниеншанца, сражение при Лесной, Гренгамское сражение

3 Места сражений Северной войны

В) Г.З. Байер, Г.Ф. Миллер, А.Л. Шлецер, Н.М. Карамзин.

0 Историки Российской империи

Задание 3.

Дайте краткое обоснование ряда (что объединяет перечисленные элементы с исторической точки зрения) и укажите, какой из элементов является лишним по данному основанию. За каждый правильный ответ – 2 балла, за объяснение – 3 балла. Максимальный балл – 10.

А) Прокопий Ляпунов, Дмитрий Трубецкой, Иван Заруцкий, Михаил Шенн.

0 Все это были участники восстания, Заруцкий лишним

Б) Ништадтский мир (1721), Белградский мир (1739), Кючук-Кайнарджийский мир (1774), Ясский мир (1791)

5 Все эти мирные договоры завершили войны с османскими войсками

Задание 4. Определите пропущенные в тексте названия, слова, имена, даты, обозначенные порядковыми номерами. При необходимости при порядковых номерах даются пояснения о характере требу-

емой вставки. Необходимые вставки впишите под соответствующими номерами в помещенную ниже таблицу. По 1 баллу за каждую верную вставку. Всего 10 баллов.

Реформы (1 – неофициальный орган управления) коснулись прежде всего управления и суда. В (2 – год) году был создан первый (3 – название органа) – собрание сословных представителей от бояр, дворян, духовенства, купцов, посадских людей (на некоторых – и от (4 – название категории крестьян)). Выполняя его решения, правительство в следующем году приняло (5 – название документа). По нему была ограничена власть (6 – название должности) и (7 – название должности): их деятельность контролировалась центральной властью и представителями местного населения – «лучшими людьми» (выборными из посадских и (4)). Складывалась система органов центральной исполнительной власти – (8 – название органов), которые поначалу назывались «избами». В них служили бояре, окольничьи, дьяки, подьячие – складывался профессиональный аппарат центральной власти. Функции и предметы ведения между (8) были разграничены: так, например, (9 – название органа) ведал дворянским войском, (10 – название органа) осуществлял суд над грабителями, ворами, убийцами.

- 1. Избранная рада +
- 2. 1549г +
- 3. Земский собор +
- 4. Земляничные крестьяне -
- 5. Судебник +
- 6. Коллежская канцелярия +
- 7. Коллежские регистраторы +
- 8. Приказы +
- 9. Земляничные приказы +
- 10. Земляничные приказы +

Задание 5.

Перед Вами перечень ныне существующих зданий, созданных тремя различными архитекторами XVIII века. Запишите в верхнюю строку таблицы в бланке работы фамилии архитекторов, а в нижнюю – порядковые номера сооружений, созданных соответствующими архитекторами. По 2 балла за каждого названного архитектора. По 2 балла за каждое верное соотношение. Всего 24 балла.

- 1) Зимний дворец в Санкт-Петербурге
- 2) собор Петропавловской крепости
- 3) Екатерининский дворец в Царском Селе
- 4) здание Сената в Московском Кремле
- 5) Петровский путевой дворец в Москве
- 6) собор Смоленского монастыря
- 7) здание Благородного собрания в Москве
- 8) Летний дворец Петра I
- 9) здание Двенадцати коллегий

Архитектор	2	Карл Фридрих Растрелли	2	Матвей Казаков
Сооружение	1, 3, 6	8, 2, 9	4, 5, 7	
	2 2 2	2 2 2	2 2 2	

Задание 6.






Расположите в хронологической последовательности события. 4 балла – полностью верная последовательность. 3 балла – последовательность с одной ошибкой (т. е. верная последовательность восстанавливается путём перестановки любых двух символов). 0 баллов – допущено более 1 ошибки.

- А) поход новгород-северского князя Игоря на половцев
- Б) битва на реке Калке
- В) любечский съезд князей
- Г) первое летописное упоминание о Москве
- Д) перенос митрополичьей кафедры в Москву

Тимофеев Алексей Олегович

**Задание 7.**

Соотнесите имена исторических деятелей, указанные в списке, с соответствующими фрагментами текста и связанными с ними изображениями. Заполните таблицу: во вторую колонку таблицы запишите имя деятеля, в третью колонку таблицы запишите номер соответствующего фрагмента текста. По 4 балла за каждое верное соотнесение. Всего за задание 20 баллов.

<p style="text-align: center;">А</p> 	<p style="text-align: center;">Б</p> 
<p style="text-align: center;">В</p> 	<p style="text-align: center;">Г</p> 
<p style="text-align: center;">Д</p> 	

**Имена деятелей:**  
 Владимир Мономах, Пётр I, Екатерина II, Иван Калита, Дмитрий Донской, Иван IV Грозный, Василий Шуйский, Анна Иоанновна  
 (Обратите внимание, что в списке представлено большее, чем требуется, количество имён.)

**Ответ:**

Буквенное обозначение изобра-	Имя деятеля
-------------------------------	-------------

жсения		
А	Князь Владимир Мономах	4 4 4
Б	Иван Калита	
В	Иван IV Грозный	
Г	Василий Шуйский	
Д	Анна Иоанновна	

**Задание 8.**

Рассмотрите карту и выполните задания. Максимальный балл за задание — 11.  
 1. В результате похода, обозначенного в легенде карты цифрой 1, его предводитель стал русским царём. (1 балл)

2. Территории, обозначенные на карте штриховкой «А», отошли к противнику по Трактату в Муроме (назовите договор). (3 балла)

3. Поход, обозначенный в легенде карты цифрой 3, номинально возглавлял человек по прозвищу Тушинский вор. (2 балла)

4. Поход, предводителями которого являлись князь и «выборный всею землею человек», обозначен в легенде карты цифрой 2. (2 балла)

5. Территории, обозначенные на карте штриховкой «Б», были возвращены Демью Лясойским (назовите договор). (3 балла)



— Граница Российского государства

→ 1      ↗ 5

↺ 2      → 6

→ 3      ▨ А

→ 4      ▨ Б

8005

**Задание 9**

Расположите в хронологической последовательности перечисленные события. 4 балла за полностью верную последовательность. 2 балла за последовательность с одной ошибкой (т. е. верная последовательность восстанавливается путём перестановки любых двух символов). 0 баллов, если допущено более одной ошибки. Всего за задание 4 балла.

- А) начало правления последнего царя из династии Рюриковичей
- Б) начало двоецарствия Петра I и Ивана V
- В) начало правления династии Стюартов в Англии
- Г) начало Великой Французской революции
- Д) созыв Второго Народного ополчения
- Е) начало Реформации в Германии

Ответ:

Б	Д	А	Г	В	Е	Ж
---	---	---	---	---	---	---

Максимальный балл - 100